



இலங்கைப் பரீட்சைத் திணைக்களம்

க.பொ.த (சாதாரண தர)ப் பரீட்சை - 2018

14 - கத்தோலிக்க திருமறை புள்ளித்திட்டம்



இந்த விடைத்தாள் பரீட்சைக்காரர்களின் உபயோகத்துக்காகத் தயாரிக்கப்பட்டது. பிரதம பரீட்சைக்காரர்களின் கலந்துரையாடல் நடைபெறும் சந்தர்ப்பத்தில் பரிமாறிக்கொள்ளும் கருத்துக்களுக்கிணங்க, இதில் உள்ள சில விடயங்கள் மாறலாம்.



கல்விப் பொது தராதரப் பத்திர (சாதாரண தர)ப் பரீட்சை - 2018

14 - கத்தோலிக்கம்

புள்ளிகளைப் பகிர்ந்தளிக்கும் முறை

I வினாப்பத்திரம்

$$\text{பல்தேர்வு வினாக்கள் } 01 - 40 = 01 \times 40 = 40 \text{ புள்ளிகள்}$$

II வினாப்பத்திரம்

1ம் வினா (கட்டாயமானது)

$$01 - 10 = 02 \times 10 = 20 \text{ புள்ளிகள்}$$

2 வினா (2 - 7 வரை தெரிவு செய்த வினாக்கள் 04)

I.	பகுதி புள்ளிகள்	02	
II.	பகுதி புள்ளிகள்	03	
III.	பகுதி புள்ளிகள்	05	= 10 புள்ளிகள்

3 வினா

I.	பகுதி புள்ளிகள்	02	
II.	பகுதி புள்ளிகள்	03	
III.	பகுதி புள்ளிகள்	05	= 10 புள்ளிகள்

4 வினா

I.	பகுதி புள்ளிகள்	02	
II.	பகுதி புள்ளிகள்	03	
III.	பகுதி புள்ளிகள்	05	= 10 புள்ளிகள்

5 வினா

I.	பகுதி புள்ளிகள்	02	
II.	பகுதி புள்ளிகள்	03	
III.	பகுதி புள்ளிகள்	05	= 10 புள்ளிகள்

6 வினா

I.	பகுதி புள்ளிகள்	02	
II.	பகுதி புள்ளிகள்	03	
III.	பகுதி புள்ளிகள்	05	= 10 புள்ளிகள்

7 வினா சிறு குறியீடு இரண்டிற்கு

$$05 + 05 = 10 \text{ புள்ளிகள்}$$

$$\text{மொத்தம் } 04 \times 10 = 40 \text{ புள்ளிகள்}$$

இறுதிப்புள்ளி

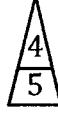
$$\text{(வினாப்பத்திரம் I = 40 புள்ளிகள் + வினாப்பத்திரம் II = 60 புள்ளிகள்) } \underline{\underline{100 \text{ புள்ளிகள்}}}$$

விடைத்தாள்களுக்குப் புள்ளியிடல் - பொது நுட்ப முறைகள்

விடைத்தாள்களுக்குப் புள்ளியிடும் போதும், புள்ளிப்பட்டியலில் புள்ளிகளைப் பதியும் போதும் ஓர் அங்கீகரிக்கப்பட்ட முறையைக் கடைப்பிடித்தல் கட்டாயமானதாகும். அதன்பொருட்டு பின்வரும் முறையில் செயற்படவும்.


1. விடைத்தாள்களுக்குப் புள்ளியிடுவதற்கு சிவப்பு நிற குமிழ்முனை பேனாவை பயன்படுத்தவும்.
2. சகல விடைத்தாள்களினதும் முதற்பக்கத்தில் உதவிப் பரீட்சகரின் குறியீட்டெண்ணைக் குறிப்பிடவும். இலக்கங்கள் எழுதும்போது தெளிவான இலக்கத்தில் எழுதவும்.
3. இலக்கங்களை எழுதும்போது பிழைகள் ஏற்பட்டால் அவற்றைத் தனிக்கோட்டினால் கீறிவிட்டு, மீண்டும் பக்கத்தில் சரியாக எழுதி, சிற்றொப்பத்தை இடவும்.
4. ஒவ்வொரு வினாவினதும் உபபகுதிகளின் விடைகளுக்காக பெற்றுக்கொண்ட புள்ளியை பதியும் போது அந்த வினாப்பகுதிகளின் இறுதியில் \triangle இன் உள் பதியவும். இறுதிப் புள்ளியை வினா இலக்கத்துடன் \square இன் உள் பின்னமாகப் பதியவும். புள்ளிகளைப் பதிவதற்கு பரீட்சகர்களுக்காக ஒதுக்கப்பட்ட நிரலை உபயோகிக்கவும்.

உதாரணம் - வினா இல 03

(i) ✓ 


.....

.....

(ii) ✓ 

.....

.....

(iii) ✓ 

.....

.....

(03) (i) $\frac{4}{5}$ + (ii) $\frac{3}{5}$ + (iii) $\frac{3}{5}$ = $\frac{10}{15}$

பல்தேர்வு விடைத்தாள் (துளைத்தாள்)

1. புள்ளி வழங்கும் திட்டத்தின் படி சரியான தெரிவைத் துளைத்தாளில் அடையாளமிடவும். அவ்வாறு அடையாளமிடப்பட்ட இடத்தை வெட்டி நீக்கித் துளைத்தாளைத் தயாரிக்கவும். துளைத்தாளை விடைகளின் மீது சரியாக வைத்துக்கொள்ளக்கூடியதாகச் சுட்டெண் அடைப்பையும் வெட்டி நீக்கவும். சரியான விடைகளின் எண்ணிக்கையைக் காட்டும் அடைப்பையும் வெட்டி நீக்கவும். சரியான, பிழையான விடைகளை குறிப்பிடக்கூடியதாக ஒவ்வொரு வரிசைக்கும் இறுதியில் வெற்று நிரையொன்றை வெட்டி ஏற்படுத்திக் கொள்ளவும். வெட்டிக்கொண்ட துளைத்தாளில் பிரதம / மேலதிக பிரதம பரீட்சகரிடம் கையொப்பம் பெற்று அங்கீகரித்துக் கொள்ளவும்.
2. அதன் பின்னர் விடைத்தாளை நன்கு பரிசீலித்துப் பார்க்கவும். ஏதாவது வினாவுக்கு, ஒரு விடைக்கும் அதிகமாக குறியிட்டிருந்தாலோ, ஒரு விடைக்காவது குறியிடப்படாமலிருந்தாலோ தெரிவுகளை வெட்டிவிடக்கூடியதாக கோடொன்றைக் கீறவும். சில வேளைகளில் பரீட்சார்த்தி முன்னர் குறிப்பிட்ட விடையை அழித்துவிட்டு வேறு விடைக்குக் குறியிட்டிருக்க முடியும். அவ்வாறு அழித்துள்ள போது நன்கு அழிக்காது விட்டிருந்தால், அவ்வாறு அழிக்கப்பட்ட தெரிவின் மீதும் கோடீயும்.
3. துளைத்தாளை விடைத்தாளின் மீது சரியாக வைக்கவும். சரியான விடையை ✓ அடையாளத்தாலும் பிழையான விடையை ○ அடையாளத்தாலும் இறுதி நிரலில் அடையாளமிடவும். சரியான விடைகளின் எண்ணிக்கையை அவ்வவ் தெரிவுகளின் இறுதி நிரையின் கீழ் அத்துடன் அவற்றை கூட்டி சரியான புள்ளியை உரிய கட்டத்தில் எழுதவும்.

கட்டமைப்பு கட்டுரை விடைத்தாள்கள்

1. பரீட்சார்த்திகளால் விடைத்தாளில் வெறுமையாக விடப்பட்டுள்ள இடங்களையும், பக்கங்களையும் குறுக்குக் கோடிட்டு வெட்டிவிடவும். பிழையான பொருத்தமற்ற விடைகளுக்குக் கீழ் கோடிடவும். புள்ளி வழங்கக்கூடிய இடங்களில் ✓ அடையாளமிட்டு அதனைக் காட்டவும்.
2. புள்ளிகளை ஓவலண்ட் கடதாசியின் இடது பக்கத்தில் குறிக்கவும்.
3. சகல வினாக்களுக்கும் கொடுத்த முழுப் புள்ளியை விடைத்தாளின் முன் பக்கத்திலுள்ள பொருத்தமான பெட்டியினுள் வினா இலக்கத்திற்கு நேராக 2 இலக்கங்களில் பதியவும். வினாத்தாளில் உள்ள அறிவுறுத்தலின் படி வினாக்கள் தெரிவு செய்யப்படல் வேண்டும். எல்லா வினாக்களினதும் புள்ளிகளும் முதல் பக்கத்தில் பதியப்பட்ட பின் விடைத்தாளில் மேலதிகமாக எழுதப்பட்டிருக்கும் விடைகளின் புள்ளிகளில் குறைவான புள்ளிகளை வெட்டி விடவும்.
4. மொத்த புள்ளிகளை கவனமாக கூட்டி முன் பக்கத்தில் உரிய கூட்டில் பதியவும். விடைத்தாளில் வழங்கப்பட்டுள்ள விடைகளுக்கான புள்ளியை மீண்டும் பரிசீலித்த பின் முன்னால் பதியவும். ஒவ்வொரு வினாக்களுக்கும் வழங்கப்படும் புள்ளிகளை உரிய விதத்தில் எழுதுவும்.

புள்ளிப்பட்டியல் தயாரித்தல்

ஒரு வினாப்பத்திரம் உள்ள பாடங்கள் தவிர ஏனைய சகல பாடங்களுக்குமான இறுதிப்புள்ளி குழுவினுள் கணிப்பிடப்படமாட்டாது. இது தவிர ஒவ்வொரு வினாப் பத்திரத்துக்குமான இறுதிப்புள்ளி தனித்தனியான புள்ளிப்பட்டியலில் பதியப்பட வேண்டும். வினாப்பத்திரம் I இற்குரிய புள்ளிப்பட்டியலில் “வினாப்பத்திரம் I” என்ற நிரலில் பதிந்து எழுத்திலும் எழுத வேண்டும். பகுதிப்புள்ளிகளை உள்ளடக்கி “வினாப்பத்திரம் II” எனும் நிரலில் வினாப்பத்திரம் II இற்குரிய இறுதிப்புள்ளியை பதிய வேண்டும். 43 சித்திரப் பாடத்திற்குரிய I, II, மற்றும் III ஆம் வினாப்பத்திரங்களுக்குரிய புள்ளிகளை தனித்தனியாக புள்ளிப்பட்டியலில் பதிந்து எழுத்திலும் எழுதுதல் வேண்டும்.

21 - சிங்களமொழியும் இலக்கியமும், 22 - தமிழ்மொழியும் இலக்கியமும் ஆகிய இரு பாடங்களும் வினாப்பத்திரம் I இற்குரிய புள்ளி புள்ளிப்பட்டியலில் “வினாப்பத்திரம் I” என்ற நிரலில் பதிந்து எழுத்திலும் எழுத வேண்டும். வினாப்பத்திரம் II, III இற்கான புள்ளிகளை தனி தனியான புள்ளித்தாளில் பகுதிப்புள்ளிகளை உள்ளடக்கி “வினாப்பத்திரம் II, III” எனும் நிரல்களில் உரிய நிரலில் பதிதல் வேண்டும்.

சகல சந்தர்ப்பங்களிலும் ஒவ்வொரு வினாப்பத்திரத்திற்கும் உரிய முழுப்புள்ளியானது முழுத்தானத்தில் வினாப்பத்திரம் I, II, மற்றும் III என்ற நிரலில் உரிய வகையில் பதிதல் வேண்டும். எந்தவிதமான காரணங்களிற்காகவும் வினாப்பத்திரத்தின் இறுதிப்புள்ளியானது தசம தானங்களில் பதியப்படலாகாது.

o o o

கிடைக்கக்கூடிய அனைத்து உரிமைகளும் / முழுப் பதிப்புரிமையுடையது / All Rights Reserved

இலங்கைப் பரீட்சைத் திணைக்களம் இலங்கைப் பரீட்சைத் திணைக்களம் இலங்கைப் பரීட்சைத் திணைக்களம் இலங்கைப் பரீட்சைத் திணைக்களம் இலங்கைப் பரீட்சைத் திணைக்களம்
 Department of Examinations, Sri Lanka Department of Examinations, Sri Lanka Department of Examinations, Sri Lanka Department of Examinations, Sri Lanka
 இலங்கைப் பரීட்சைத் திணைக்களம் இலங்கைப் பரீட்சைத் திணைக்களம் இலங்கைப் பரீட்சைத் திணைக்களம் இலங்கைப் பரீட்சைத் திணைக்களம்
 இலங்கைப் பரீட்சைத் திணைக்களம் இலங்கைப் பரீட்சைத் திணைக்களம் இலங்கைப் பரீட்சைத் திணைக்களம் இலங்கைப் பரீட்சைத் திணைக்களம்

14 T I, II

අධ්‍යයන පොදු සහතික පත්‍ර (සාමාන්‍ය පෙළ) විභාගය, 2018 දෙසැම්බර්
 கல்விப் பொதுத் தராதரப் பத்திர (சாதாரண தர)ப் பரீட்சை, 2018 டிசெம்பர்
 General Certificate of Education (Ord. Level) Examination, December 2018

කතෝලික ධර්මය I, II
 கத்தோலிக்க திருமறை I, II
 Catholicism I, II

2018.12.03 | 0830 - 1140

පැය තුනයි
 மூன்று மணித்தியாலம்
 Three hours

අමතර කියවීමේ කාලය - මිනිත්තු 10 යි
 மேலதிக வாசிப்பு நேரம் - 10 நிமிடங்கள்
 Additional Reading Time - 10 minutes

வினாப்பத்திரத்தை வாசித்து, வினாக்களைத் தெரிவுசெய்வதற்கும் விடை எழுதும்போது முன்னுரிமை வழங்கும் வினாக்களை ஒழுங்கமைத்துக் கொள்வதற்கும் மேலதிக வாசிப்பு நேரத்தைப் பயன்படுத்துக.

கத்தோலிக்க திருமறை I

கவனிக்க :

- எல்லா வினாக்களுக்கும் விடை எழுதுக.
- 1 தொடக்கம் 40 வரையுள்ள வினாக்கள் ஒவ்வொன்றிலும் (1), (2), (3), (4) என இலக்கமிடப்பட்ட விடைகளில் சரியான அல்லது மிகப் பொருத்தமான விடையைத் தெரிவுசெய்க.
- உமக்கு வழங்கப்பட்டுள்ள விடைத்தாளில் ஒவ்வொரு வினாவுக்கும் உரிய வட்டங்களில் உமது விடையின் இலக்கத்தை ஒத்த வட்டத்தினுள்ளே புள்ளியை (X) இடுக.
- அவ்விடைத்தாளின் மறுபக்கத்தில் தரப்பட்டுள்ள மற்றைய அறிவுறுத்தல்களையும் கவனமாக வாசித்து, அவற்றைப் பின்பற்றுக.

1. திருவிவிலியம் ஒரு தனி நூல் அல்ல பல நூல்களைக் கொண்டதாகையால் அது,

- ஒர் அகராதியாகும். (2) ஒர் விவரணமாகும்.
- ஒர் கலைக்களஞ்சியமாகும். (4) ஒர் நூலகமாகும்.

2. கத்தோலிக்க திருமறை எதனை அடிப்படையாகக் கொண்டுள்ளதெனில்,

- இறைவார்த்தையிணையாகும். (2) திருச்சபை பாரம்பரியத்திணையாகும்.
- அப்போஸ்தலிக்க மரபிணையாகும். (4) திருச்சபையிணையாகும்.

3. மனிதனின் கடந்த காலத்தில் இறைவனின் செயற்பாடு உறுதிப்படுத்தப்படுவது

- இலக்கிய நூல்கள் மூலமாகும். (2) ஞான இலக்கியத்தின் மூலமாகும்.
- வரலாற்று நூல்கள் மூலமாகும். (4) இறைவாக்கினர் நூல்கள் மூலமாகும்.

4. பின்வரும் விபரங்களின் மீது உமது கவனத்தைச் செலுத்தவும்

- வரலாற்று அறிஞராகும்
- மருத்துவராகும்
- ஓவியக் கலைஞராகும்
- தூய பவுலின் மறைத்தூதுரைப் பயணத்தில் கலந்துக் கொண்டவராகும்

மேற்கூறிய விபரங்களுக்கேற்ப உறுதிப்படுத்தப்படும் நபர் ஆவது

- புனித யோவான் (2) புனித லூக்கா (3) புனித பேதுரு (4) புனித பர்னபா

5. கிபயோன் பிரதான மலையுச்சியில் அமைந்துள்ள பஸிடீத்தில் பஸிச் செலுத்தச் சென்றவர்

- தாவீது அரசன் (2) ஏரோது அரசன் (3) பிலாத்து அரசன் (4) சாலமோன் அரசன்

6. அநேகமாக சமுதாயத்தில் உயர் வகுப்பினருக்கு வழங்கப்படும் அறிவுரைகளை உள்ளடக்கிய எபிரேய ஞானத்தின் பிரிவு ஆவது,

- குடும்ப மற்றும் கோத்திர ஞானம் (2) அரசசபை ஞானம்
- ஆன்மீக ஞானம் (4) அன்றாட வாழ்க்கைக்குரிய ஞானம்

7. லூக்கா 19:8ன் படி “யாரிடமாவது நான் அநீதியாகப் பெற்றிருந்தால் நான்கு மடங்காகத் திருப்பிக் கொடுப்பேன்” இவ்வாறு இயேசுவிடம் கூறியவர் யார்?
- (1) செல்வந்த இளைஞன் (2) அறிவுற்ற செல்வந்தன்
(3) ஊதாரிப்பிள்ளை (4) சக்கேயு
8. இயேசு அப்போஸ்தவர்களுக்குக் காட்சி கொடுத்து,
A - அவர்களைத் திடப்படுத்தினார்.
B - அவர்கள் மீது ஊதினார்.
C - அவர்களுக்கு தூய ஆவியின் கொடைகளை வழங்கினார்.
D - அவர்களுக்குப் பாவங்களை மன்னிக்கும் அதிகாரத்தை வழங்கினார்.
- மேற்கூறிய நிகழ்வுகள் இடம்பெற்ற சந்தர்ப்பங்கள்
- (1) எம்மாவுஸ் பயணத்தின் போதாகும்.
(2) வாரத்தின் முதல்நாள் அதிகாலை வேளையிலாகும்.
(3) பாஸ்கா ஞாயிறன்று மாலையிலாகும்.
(4) கல்லறை அருகிலாகும்.
9. அருட்பணி யாக்கோயே கொன்சால்வேஸ் அடிகளாரால் எழுதப்பட்ட இலக்கிய நூல்களுள் தபக்காலத்தில் பயன்படுத்தப்படும் நூல்
- (1) தேவவேதபுராணம் (2) வேதகாவியம்
(3) மங்கள கீதம் (4) வியாகுல பிரசங்கம் (பசாம்)
10. லன்சியானோ நகரில் புதுமையின் மாமிசத் துண்டிலும் ரியூரின் நகரில் கிறிஸ்துவின் திருத்துகிலிலும் காணப்பட்ட ஒரே இன இரத்தம் எந்த வகையைச் சேர்ந்தது?
- (1) A (2) B
(3) A B பொசிடிவ் (4) O பொசிடிவ்
11. 2005 சித்திரை மாதம் 02 ஆம் திகதி இறைபதம் அடைந்து 2011 வைகாசி மாதம் 01 ஆம் திகதி அருளாளர் நிலைக்கும் 2014 சித்திரை மாதம் 27 ஆம் திகதி புனிதர்கள் நிலைக்கும் உயர்த்தப்பட்டவர்
- (1) தூய திருத்தந்தை II ஆம் அருளப்பர் சின்னப்பர் ஆவார்.
(2) தூய மரியா கொற்றறி ஆவார்.
(3) தூய அன்னை திரேசா ஆவார்.
(4) தூய திருத்தந்தை XXIII ஆம் அருளப்பர் ஆவார்.
12. கத்தோலிக்க திருச்சபை மறைக்கல்வியின்படி ஓர் பொய்யை உறுதிப்படுத்த இறைவனின் பெயரைப் பயன்படுத்துதல்,
- (1) தேவ நிந்தையாகும். (2) தேவ கோபமாகும்.
(3) தேவ சாபமாகும். (4) தேவ துரோகமாகும்.
13. திருமண ஒழுக்க வாழ்வைப் பாதுகாக்க வேண்டியவர்
- (1) திருமணமான கணவர் (2) திருமணத் தம்பதிகள்
(3) மணமாகாத இளைஞர், யுவதிகள் (4) திருமணமான பெண்கள்
14. அந்நியர் ஆட்சிக்காலத்தில் இந்நாட்டுக்கு வருகை தந்த துறவற சபைகள் மத்தியில் ஆங்கிலேயர் காலத்தில் இந்நாட்டுக்கு வருகை தந்த துறவற சபை எது?
- (1) சில்வெஸ்டர் ஆசீர்வாதப்பர் சபை (2) டொமினிக்கன் சபை
(3) ஓறத்தோரியன் சபை (4) பிரான்சிஸ்கன் சபை
15. பழைய ஏற்பாட்டில் முதல் முறையாக அப்பமும் திராட்சை இரசமும் கொண்டு வந்து கடவுளுக்கு ஒப்புக்கொடுத்தவர்,
- (1) இயேசு கிறிஸ்து ஆவார். (2) ஆரோன் ஆவார்.
(3) யோசுவா ஆவார். (4) மெல்கிசெதேக் ஆவார்.
16. உண்மையைக் கடைப்பிடிக்கவும், உண்மைக்குச் சான்று பகரவும் எத்தனையாவது கட்டளை நமக்குக் கூறுகிறது?
- (1) ஏழாவது (2) எட்டாவது (3) ஒன்பதாவது (4) பத்தாவது

17. 'இறைவனின் நடுநிலையாளர்' என்னும் சுற்றுமடல் இல 20இல் திருவழிபாடு பற்றி விளக்கம் தருபவர்,
 (1) மேன்மைதங்கிய திருத்தந்தை II ஆம் அருளப்பர் ஆவார்.
 (2) மேன்மைதங்கிய திருத்தந்தை XII ஆம் பத்திநாதர் ஆவார்.
 (3) மேன்மைதங்கிய திருத்தந்தை VI ஆம் சின்னப்பர் ஆவார்.
 (4) மேன்மைதங்கிய திருத்தந்தை XIII ஆம் சிங்கராயர் ஆவார்.

18. திருவழிபாட்டில் வாரத்தின் விசேடமான நாளாகக் கொள்ளப்படுவது,
 (1) பாஸ்கா ஞாயிறு ஆகும் (2) கடன் திருநாட்களாகும்
 (3) ஞாயிறு தினமாகும் (4) குருத்தோலை ஞாயிறு ஆகும்

19. பின்வரும் நாட்கள் கத்தோலிக்கருக்கு முக்கியமான நாட்களாகும்.
 A - குருத்தோலை ஞாயிறு
 B - பெரிய வியாழன்
 C - பெரிய வெள்ளி
 D - அல்லோலூயா சனிக்கிழமை
 மேற்கூறிய தினங்களில் மிகவும் புனிதமான மூன்று நாட்களையும் குறிக்கும் எழுத்துத் தொகுதியை தெரிவுசெய்க
 (1) A,B,C (2) A,B,D (3) A,C,D (4) B,C,D

20. திருப்பலியின் இறுதி ஆசீரினால் எம்மை வழியனுப்பி வைப்பது
 (1) மறைபரப்புச் செயற்பாட்டிற்காகும்.
 (2) கிறிஸ்தவ குடும்பத்திற்காகும்.
 (3) மறைப் பாடசாலைக்காகும்.
 (4) பங்கேற்கும் சமூகத்திற்காகும்.

21. ஐந்நூல் உருவாவதற்குப் பங்களிப்புச் செய்த பிரதான இறையியல் மரபுகளின் எண்ணிக்கை யாது?
 (1) ஒன்று (2) இரண்டு (3) மூன்று (4) நான்கு

22. குருக்களின் படிப்பினைகளை முன் வைப்பதால் சமய வழிபாடுகள் மற்றும் திருவழிபாடு பற்றி விசேட கவனம் செலுத்தப்பட்டுள்ள மரபாக அமைவது
 (1) குருக்கள் (2) யாவே (3) எலோகிம் (4) இணைச்சட்டம்

23. பின்வரும் நூல்களுள் இணைத்திருமுறை நூல்கள் மட்டும் உள்ளடங்கும் தொகுதியைத் தெரிவுசெய்க
 A - தோபித்து
 B - ஆகாய்
 C - யூதித்து
 D - செக்கரியா
 (1) A,B (2) A,C (3) A,D (4) B,D

24. தூய பேதுருவின் மொழிபெயர்ப்பாளராக இருந்தவர்,
 (1) தூய மத்தேயு ஆவார். (2) தூய லூக்கா ஆவார்.
 (3) தூய மாற்கு ஆவார். (4) தூய யோவான் ஆவார்.

25. பாவத்தில் விழுந்த மனிதனுக்குக் கடவுள் தண்டனை வழங்கிய விதத்தினைப் பின்வரும் கூற்றுக்கள் மூலம் எடுத்துக் காட்டலாம்.
 A - "உன் மகப்பேற்றின் வேதனையை மிகுதியாக்குவேன்."
 B - "மண்ணில்கில் நீ நாடோடியாக அலைந்து திரிவாய்."
 C - "உன் பொருட்டு நிலம் சபிக்கப்பட்டுள்ளது."
 D - "நீ மண்ணிலிருந்து உருவாக்கப்பட்டதால் அதற்குத் திரும்புவாய்."
 மேற்காணப்படும் கூற்றுக்களுள் காயீனுக்கு கொடுத்த தண்டனையைக் குறிக்கும் எழுத்து எது?
 (1) A (2) B (3) C (4) D

26. தொடக்க நூல் 12:2இன் படி "உன்னை நான் பெரிய இனமாக்குவேன்." எனக் கடவுள் வாக்குக்கொடுத்தது
 (1) மோசேக்கு (2) நோவாவிற்கு (3) ஆபிரகாமிற்கு (4) யோசேப்பிற்கு

27. திருமுழுக்கு யோவானின் தூதரைப்பணி ஆரம்பிக்கப்பட்டது
 (1) கபாலை மலை அருகில் ஆகும். (2) எருசலேம் ஆலயத்தில் ஆகும்.
 (3) பாலை நிலத்தில் ஆகும். (4) யோர்தான் ஆற்றை அடுத்த பகுதிகளில் ஆகும்.
28. இயேசுவை சோதித்தபோது, அவர் சாத்தானுக்கு கூறிய வார்த்தைகள் கீழே தரப்பட்டுள்ளன.
 A - "மனிதன் அப்பத்தினால் மட்டும் வாழ்வதில்லை"
 B - "உன் கடவுளாகிய ஆண்டவரை வணங்கு"
 C - "அவர் ஒருவருக்கே பணி செய்வாயாக"
 D - "உன் கடவுளாகிய ஆண்டவரை சோதிக்க வேண்டாம் என்று சொல்லி உள்ளதே"
 மேற்கூறப்பட்டுள்ளவற்றுள் கோயிலின் உயர்ந்த பகுதியில் வைத்து இயேசு கூறிய வெளிப்பாட்டைக் குறிக்கும் எழுத்தை தெரிவு செய்க
 (1) A (2) B (3) C (4) D
29. நற்செய்தி நூலில் புதுமைகள் இடம்பெறுவதற்கு மிகவும் அவசியமானதாக விளங்கியது
 (1) அனுதாபமாகும்.
 (2) பகிரங்கமாதலாகும்.
 (3) நம்பிக்கையாகும்.
 (4) வேண்டுகோளாகும்.
30. விதைப்பவன் பற்றிய உவமையில் 'விதைகள் விழுந்த நிலத்தினைப்' பின்வருமாறு குறிப்பிடலாம்.
 A - வழியோரம் விழுந்த விதைகள்
 B - மண் இல்லாப் பாரைப் பகுதியில் விழுந்த விதைகள்
 C - முட்செடிகளின் இடையே விழுந்த விதைகள்
 D - நல்ல நிலத்தில் விழுந்த விதைகள்
 மேற்கூறிய விடயங்களின்படி பறவைகள் விழுங்கிவிட்ட விதைகள் விழுந்த நிலத்தைக் குறிக்கும் எழுத்து யாது?
 (1) A (2) B (3) C (4) D
31. இயேசு எட்டுப் பேரூகள் மூலம் எமக்கு எடுத்துக்காட்டியது,
 (1) இறை ஆட்சியின் மதிப்பீடுகள் ஆகும். (2) நோன்பு பற்றிய படிப்பினை ஆகும்.
 (3) தருமம் செய்வது பற்றிய படிப்பினை ஆகும். (4) பூமியின் உட்படும் உலகின் ஒளிபடும் ஆகும்.
32. ஓர் குருவாக, ஓர் இறைவாக்கினராக, ஓர் அரசனாக இறைவனுக்கும் மனிதனுக்கும் பணிபுரிய அருள்பொழிவு செய்யும் அருளடையாளம் ஆவது
 (1) திருமுழுக்கு (2) குருத்துவம் (3) நோயில் புகதல் (4) உறுதி புகதல்
33. மரியன்னையின் விண்ணேற்பு திருவிழா இடம்பெறுவது எப்போது?
 (1) ஜனவரி 01 (2) ஆவணி 15 (3) வைகாசி 31 (4) மார்ச்சு 08
34. நோயில் புகதல் அருளடையாளத்தை வழங்கும்போது திருத்தலைம் பூசப்படுவது நோயாளியின்,
 (1) நெற்றியிலாகும். (2) கைகளிலும் நெஞ்சிலுமாகும்.
 (3) நெற்றியிலும் கைகளிலுமாகும். (4) கைகளிலாகும்.
35. குருவானவர் திருச்சபையின் சட்டபூர்வமான சாட்சியாளராகவும், கிறிஸ்துநாதரின் பிரதிநிதியாகவும் நின்று செயற்படும் அருளடையாளம்,
 (1) திருமுழுக்கு ஆகும். (2) உறுதிப்புகதல் ஆகும்.
 (3) நோயில் புகதல் ஆகும். (4) மெய்விவாகம் ஆகும்.
36. கி.பி 1833ல் அருளாளர் பிறடிக் ஓசானம் அவர்களால் ஆரம்பிக்கப்பட்டது,
 (1) கத்தோலிக்க மாணவர் இயக்கம் ஆகும். (2) இயேசுவின் திரு இருதய சபை ஆகும்.
 (3) மரியாயின் சேனை ஆகும். (4) தூய வின்சன் டி போள் சபை ஆகும்.

37. கத்தோலிக்க திருச்சபை மறைக்கல்வி இலக்கம் 2797ன் படி நாம் கேட்கும் அனைத்தும் நமக்கு தவறாது கிடைக்கும் என்ற நம்பிக்கையோடு கர்த்தர் கற்பித்த செயல்தை செபிக்க வேண்டிய முறை,
- (1) பெருமையோடும் மதிப்போடும் ஆகும்.
 - (2) தாழ்மையாகவும் சந்தோசமாகவும் ஆகும்.
 - (3) மனஸ்தாபத்தோடும் மனம் வருந்துதலோடும் ஆகும்.
 - (4) தைரியத்தோடும் ஒருமனப்பட்டும் ஆகும்.
38. "சருவேசுரனுடைய பரிசுத்த மாதாவே" என்னும் செயல் கிறிஸ்துவிற்குப் பின் எத்தனையாம் நூற்றாண்டு முதல் பயன்படுத்தப்பட்டு வருகின்றது?
- (1) முதலாம் நூற்றாண்டு
 - (2) இரண்டாம் நூற்றாண்டு
 - (3) மூன்றாம் நூற்றாண்டு
 - (4) நான்காம் நூற்றாண்டு
39. மரியன்னையின் புகழ்ச்சிப்பாடல் பயன்படுத்தப்படுவது,
- (1) காலை திருப்புகழ்மாலையில்
 - (2) மதியம் திருப்புகழ்மாலையில்
 - (3) மாலை திருப்புகழ்மாலையில்
 - (4) இரவு திருப்புகழ்மாலையில்
40. யூத மக்கள் செய்கூட்டத்தில் செபிப்பதற்காகப் பயன்படுத்தியது,
- (1) திருப்பாடல்களின் பாடல்களையாகும்.
 - (2) வெளிப்பாட்டு இலக்கியத்தையாகும்.
 - (3) ஞான இலக்கியத்தையாகும்.
 - (4) இணைச்சட்ட நூலையாகும்.

**

ශ්‍රී ලංකා විභාග දෙපාර්තමේන්තුව
இலங்கைப் பரீட்சைத் திணைக்களம்

රකසාදි
அந்தரங்கமானது

අ.පො.ස. (සා.පෙළ) විභාගය - 2018
க.பொ.த (சா.தர)ப் பரீட்சை - 2018

විෂය අංකය
பாடல் இலக்கம்

14

විෂය
பாடல்

கத்தோலிக்க திருமறை

I පත්‍රය - පිළිතුරු
I பத்திரம் - விடைகள்

ප්‍රශ්න අංකය வினா இல.	පිළිතුරු අංකය விடை இல.	ප්‍රශ්න අංකය வினா இல.	පිළිතුරු අංකය விடை இல.	ප්‍රශ්න අංකය வினா இல.	පිළිතුරු අංකය விடை இல.	ප්‍රශ්න අංකය வினா இல.	පිළිතුරු අංකය விடை இல.
01.4.....	11.1.....	21.4.....	31.1.....
02.1.....	12.1.....	22.1.....	32.1.....
03.3.....	13.2.....	23.2.....	33.2.....
04.2.....	14.1.....	24.3.....	34.3.....
05.4.....	15.4.....	25.2.....	35.4.....
06.2.....	16.2.....	26.3.....	36.4.....
07.4.....	17.2.....	27.4.....	37.2.....
08.3.....	18.3.....	28.4.....	38.3.....
09.4.....	19.4.....	29.3.....	39.3.....
10.3.....	20.1.....	30.1.....	40.1.....

විශේෂ උපදෙස් } එක් පිළිතුරකට ලකුණු
விசேட அறிவுறுத்தல் } ஒரு சரியான விடைக்கு

01

බැගින්
புள்ளி வீதம்

මුළු ලකුණු / மொத்தப் புள்ளிகள் 01 × 40 = 40

පහත නිදසුනෙහි දැක්වෙන පරිදි බහුවර්ණ උත්තරපත්‍රයේ අවසාන තීරුවේ ලකුණු ඇතුළත් කරන්න.
கீழ் குறிப்பிடப்பட்டிருக்கும் உதாரணத்திற்கு அமைய பல்தேர்வு வினாக்களுக்குரிய புள்ளிகளை பல்தேர்வு வினாப்பத்திரத்தின் இறுதியில் பதிச.

නිවැරදි පිළිතුරු සංඛ්‍යාව
சரியான விடைகளின் தொகை

25

40

I පත්‍රයේ මුළු ලකුණු
பத்திரம் I இன் மொத்தப்புள்ளி

25

40